

**Проверочная работа
по МАТЕМАТИКЕ**

5 класс (по программе начальной школы)

Вариант 1

Инструкция по выполнению работы

На выполнение работы по математике даётся 45 минут. Работа содержит 12 заданий.

В заданиях, после которых есть поле со словом «Ответ», запиши ответ в указанном месте.

В заданиях 5 (пункт 2) и 11 нужно сделать чертёж или рисунок. В задании 10 нужно записать ответ, заполнив приведенную форму.

В заданиях, после которых есть поле со словами «Решение» и «Ответ», запиши решение и ответ в указанном месте.

Если ты хочешь изменить ответ, то зачеркни его и запиши рядом новый.

При выполнении работы нельзя пользоваться учебниками, рабочими тетрадями, справочниками, калькулятором.

При необходимости можно пользоваться черновиком. Записи в черновике проверяться и оцениваться не будут.

Советуем выполнять задания в том порядке, в котором они даны. Для экономии времени пропускай задание, которое не удаётся выполнить сразу, и переходи к следующему. Постарайся выполнить как можно больше заданий.

Желаем успеха!

1

Вычисли: $85 - 16$.



Ответ:

[illegible]

2

Вычисли: $(22 + 9) \cdot 2 + 8$.

Ответ:

[illegible]

3

На садовом рынке продаются саженцы деревьев и кустарников (см. рисунок).

Яблоня 420 руб.

Груша 350 руб.

Слива 570 руб.

Вишня 370 руб.

Черешня 490 руб.



Малина 280 руб.

Крыжовник 390 руб.

Красная
смородина 200 руб.

Чёрная
смородина 250 руб.

Сколько всего рублей надо заплатить за два куста крыжовника и одну сливу?

Запиши решение и ответ.

Решение.

A full page of blank graph paper with a uniform grid of small squares. The grid consists of 20 columns and 15 rows, providing a structured area for drawing or writing.

Ответ:

[illegible]

4

Первый акт спектакля длится 1 ч 25 мин, второй акт длится 1 ч 10 мин. Между первым и вторым актами есть антракт. Спектакль начался в 19 ч 15 мин, а закончился в 22 ч 15 мин. Какова продолжительность антракта?

Ответ:

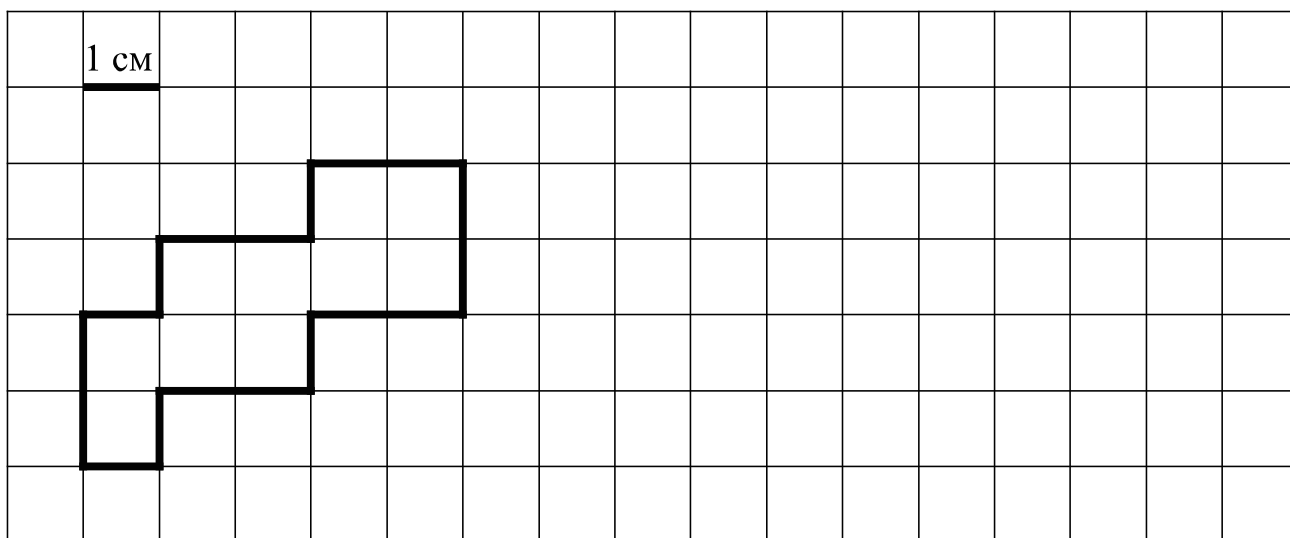
5

Ниже на клетчатом поле со стороной клетки 1 см изображена фигура.

1) Найди периметр этой фигуры.

Ответ:

2) На клетчатом поле рядом с фигурой нарисуй прямоугольник, периметр которого на 2 см больше периметра данной фигуры.



6

Среди школьников провели опрос «Твой любимый вид спорта». Результаты опроса показаны в таблице. Ответь на вопросы.

Класс	Бег на коньках	Гимнастика	Велогонки	Футбол
6-й класс	3	5	7	8
7-й класс	8	6	3	2
8-й класс	5	9	4	5

1) В каком классе больше всего школьники любят бег на коньках?



ОТВЕТ:

[illegible]

2) Сколько всего школьников этих классов назвали своим любимым видом спорта велогонки?

Ответ:

[illegible]

7

Найди значение выражения $1056 - 946 : 43 + 106$.

Ответ:

[illegible]

8

Пять килограммов варенья разложили по маленьким и большим банкам. В каждую большую банку помещается 300 г варенья, а в маленькую — 200 г. Получилось 6 больших банок варенья. Сколько понадобилось маленьких банок?

Запиши решение и ответ.

Решение.

 Ответ:

9

Боря, Юля и Лиза собирали яблоки. Боря набрал 18 вёдер яблок, Юля набрала на 10 вёдер яблок меньше, чем Боря и Лиза вместе. Один из троих ребят набрал 7 вёдер яблок.

1) Сколько вёдер яблок набрала Лиза?

 Ответ:

2) Сколько всего вёдер яблок набрали ребята?

 Ответ:

10

Лена написала сочинение «Стеллаж» и сделала рисунок стеллажа.

Недавно мы купили новый стеллаж. Теперь мои книжки аккуратно расставлены, и каждая вещь нашла своё место. Два нижних отдела в стеллаже закрываются дверками. Поэтому папа сказал, что это уже не стеллаж, а почти шкаф.

Слева внизу лежат краски, карандаши и альбомы для рисования. Я люблю рисовать и по субботам хожу на кружок рисования. Правое нижнее отделение я отдала брату Ване. Он сложил туда свои игрушки.


На верхнюю полку мама поставила книги с кулинарными рецептами. А над рецептами, на самый верх стеллажа, она поставила цветок. Он там хорошо себя чувствует, потому что там очень светло, и я обещала его поливать.

На полке над Ваниными игрушками поместились словари и энциклопедии. Это самые толстые и очень умные книги. Слева от словарей — мои учебники. Их удобно брать, потому что они стоят не высоко и не низко, а как раз под рукой, если я сижу за своим столом.

Над учебниками осталось место для книг стихов и сказок. Моя любимая сказка — про Чебурашку и Крокодила Гену Эдуарда Успенского. Ване она тоже нравится, поэтому бабушка подарила нам плюшевого Чебурашку. Пришлось поставить Чебурашку рядом со сказками Успенского.

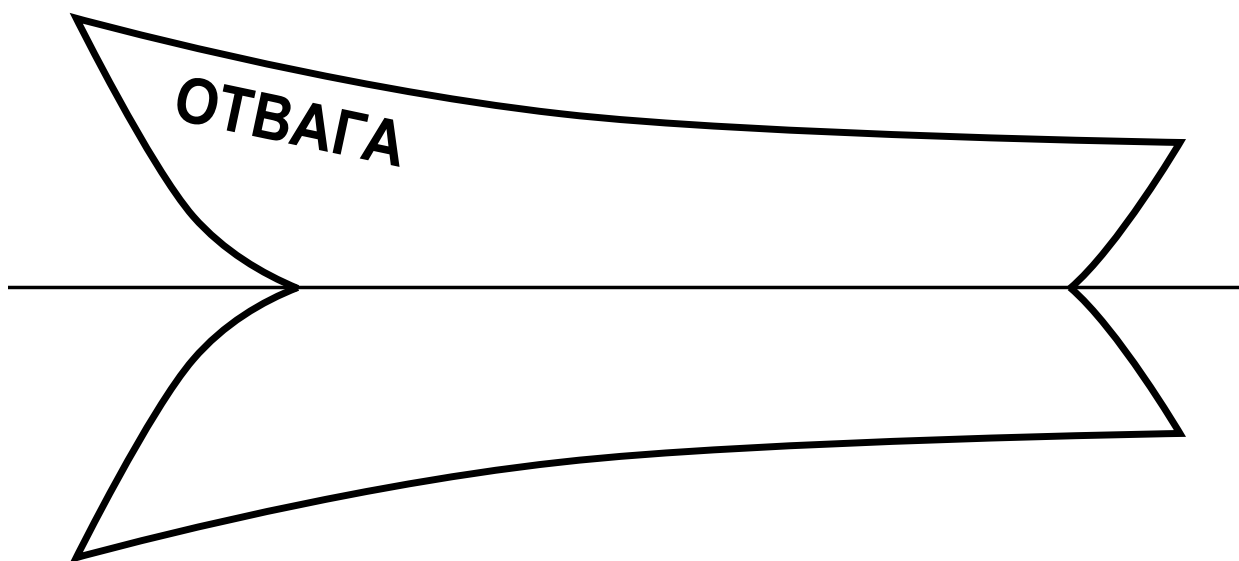
Прочти сочинение и рассмотри рисунок. Пользуясь описанием, которое дала Лена, обозначь цифрами на рисунке шесть отделов стеллажа.

1. Сказки.
2. Энциклопедии и словари.
3. Карандаши, краски и альбомы для рисования.
4. Учебники.
5. Кулинарные книги.
6. Игрушки.



11

На рисунке изображена лодка и её отражение в воде. На борту лодки написано название «ОТВАГА». Напиши название лодки на отражении в воде.



12

Вася с родителями собирал грибы. Мама нашла 9 грибов, папа нашёл 15 грибов, а Вася нашёл на столько же больше грибов, чем нашла мама, на сколько меньше, чем нашёл папа. Сколько грибов нашёл Вася?

Запиши решение и ответ.

Решение.

 Ответ: